













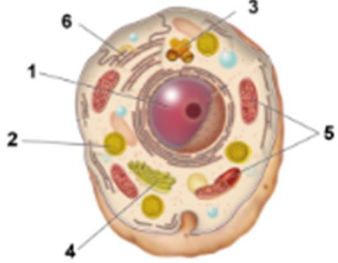
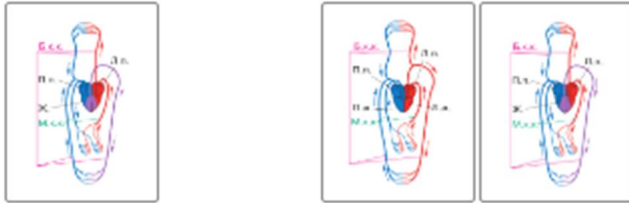
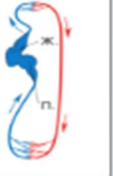


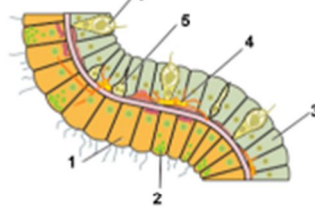


**Ответы и указания к оцениванию образцов заданий демонстрационного варианта
проверочной работы по биологии (углублённый уровень)
для обучающихся 8-х классов образовательных организаций города Москвы,
участвующих в реализации городских образовательных проектов**

№ задания	Ответ (эталон)	Макс. балл	Указания к оцениванию	Балл								
1	<div><div>Рассмотрите изображения организмов, относящихся к Царству Животные. Распределите изображения организмов по соответствующим названиям специальных научных дисциплин зоологии: для этого переместите изображения с помощью компьютерной мыши в соответствующие строки таблицы «НАЗВАНИЯ СПЕЦИАЛЬНЫХ НАУЧНЫХ ДИСЦИПЛИН».</div><div>Среди изображений организмов могут быть лишние.</div><div><div></div><div></div></div><div>НАЗВАНИЯ СПЕЦИАЛЬНЫХ НАУЧНЫХ ДИСЦИПЛИН</div><table><tr><th>АРАХНОЛОГИЯ</th><th>ОРНИТОЛОГИЯ</th><th>ИХТИОЛОГИЯ</th><th>ГЕЛЬМИНТОЛОГИЯ</th></tr><tr><td></td><td></td><td></td><td></td></tr></table></div> <td rowspan="3">2</td> <td>Ответ совпадает с эталоном.</td> <td>2</td>	АРАХНОЛОГИЯ	ОРНИТОЛОГИЯ	ИХТИОЛОГИЯ	ГЕЛЬМИНТОЛОГИЯ					2	Ответ совпадает с эталоном.	2
		АРАХНОЛОГИЯ	ОРНИТОЛОГИЯ	ИХТИОЛОГИЯ	ГЕЛЬМИНТОЛОГИЯ							
												
Допущена одна ошибка.	1											
Другие варианты.	0											

2	<p>Выберите три правильно обозначенные подписи к рисунку «Строение клетки животного».</p>  <div> <input type="checkbox"/> клеточный центр <input checked="" type="checkbox"/> лизосома <input type="checkbox"/> митохондрия <input checked="" type="checkbox"/> аппарат Гольджи <input type="checkbox"/> клеточная мембрана <input checked="" type="checkbox"/> эндоплазматическая сеть </div>	2	Ответ совпадает с эталоном.	2
			Допущена одна ошибка.	1
			Другие варианты.	0
3	<p>Все перечисленные ниже утверждения, кроме двух, являются значениями плесневых грибов в жизни человека. Выберите два значения, выпадающих из списка.</p> <div> <input checked="" type="checkbox"/> вызывают болезни человека и животных <input type="checkbox"/> используются для получения особых сортов сыра <input type="checkbox"/> применяют для производства лимонной кислоты <input checked="" type="checkbox"/> образуют микоризу <input type="checkbox"/> получают антибиотики </div>	2	Ответ совпадает с эталоном.	2
			Допущена одна ошибка.	1
			Другие варианты.	0

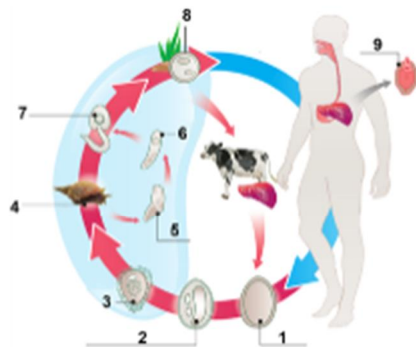
4	<p>Установите последовательность систематических таксонов, начиная с наибольшего.</p> <p><i>При выполнении задания расположите систематические таксоны в нужном порядке с помощью мыши или запишите в поле ответа соответствующую последовательность цифр, не разделяя их запятыми или пробелами.</i></p> <div> <div>5) домен Эукариоты</div> <div>3) царство Животные</div> <div>6) подтип Позвоночные</div> <div>4) отряд Насекомоядные</div> <div>2) семейство Ежовые</div> <div>1) вид Ёж обыкновенный</div> </div> <div> <p>Ответ: <input type="text" value="536421"/></p> </div>	2	Ответ совпадает с эталоном.	2
			Допущены две ошибки.	1
			Другие варианты.	0
5	<p>Верны ли приведённые суждения о процессах жизнедеятельности животного организма?</p> <p>А. Основными пищеварительными железами у позвоночных животных являются печень и поджелудочная железа.</p> <p>Б. Одноклеточные и некоторые беспозвоночные животные дышат всей поверхностью тела.</p> <div> <div><input type="radio"/> верно только суждение А</div> <div><input type="radio"/> верно только суждение Б</div> <div><input checked="" type="radio"/> верны оба суждения</div> <div><input type="radio"/> оба суждения неверны</div> </div>	1	Ответ совпадает с эталоном.	1
			Другие варианты.	0

6	Рассмотрите рисунок схемы кровообращения у позвоночных животных.		1	Кровеносная система рыбы. Количество кругов кровообращения						
				Ответ совпадает с эталоном.	1					
	<p>Заполните пустые ячейки таблицы, перетаскив изображение сердца рыбы с помощью компьютерной мыши в соответствующую ячейку, и ответьте на вопросы, используя выпадающие списки в каждой ячейке.</p> <table><tr><th>Кровеносная система рыбы</th><th>Количество кругов кровообращения</th><th>Особенность кровообращения</th></tr><tr><td></td><td><div>один</div></td><td><div>в камерах сердца находится только венозная кровь</div></td></tr></table>			Кровеносная система рыбы	Количество кругов кровообращения	Особенность кровообращения		<div>один</div>	<div>в камерах сердца находится только венозная кровь</div>	Другие варианты.
Кровеносная система рыбы	Количество кругов кровообращения	Особенность кровообращения								
	<div>один</div>	<div>в камерах сердца находится только венозная кровь</div>								
		Особенность кровообращения								
7	Рассмотрите рисунок «Строение фрагмента тела гидры».		1	Название клетки. Слой тела гидры						
				Ответ совпадает с эталоном.	1					
				Другие варианты.	0					
			1	Функции клетки						
				Ответ совпадает с эталоном.	1					
				Другие варианты.	0					
	<p>Ответьте на вопросы, используя выпадающие списки в каждой ячейке таблицы.</p> <table><tr><th>Как называется клетка тела гидры, обозначенная на рисунке цифрой 6?</th><th>В каком слое тела располагается данная клетка?</th><th>Какую функцию выполняет данная клетка?</th></tr><tr><td><div>стрекательная</div></td><td><div>эктодерма</div></td><td><div>защита и нападение</div></td></tr></table>			Как называется клетка тела гидры, обозначенная на рисунке цифрой 6?	В каком слое тела располагается данная клетка?	Какую функцию выполняет данная клетка?	<div>стрекательная</div>	<div>эктодерма</div>	<div>защита и нападение</div>	
Как называется клетка тела гидры, обозначенная на рисунке цифрой 6?	В каком слое тела располагается данная клетка?	Какую функцию выполняет данная клетка?								
<div>стрекательная</div>	<div>эктодерма</div>	<div>защита и нападение</div>								

8

Рассмотрите рисунок и выполните задания 8 и 9.

Рассмотрите схему жизненного цикла печёночного сосальщика.



Какой цифрой на схеме обозначен промежуточный хозяин печёночного сосальщика?

Ответ: 4

1

Ответ совпадает
с эталоном.

1

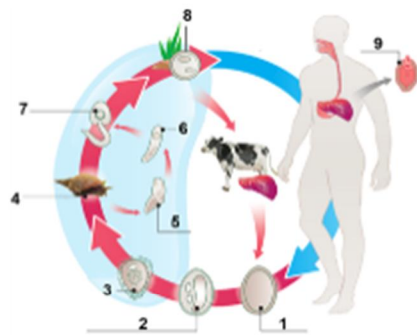
Другие варианты.

0

9

Рассмотрите рисунок и выполните задания 8 и 9.

Рассмотрите схему жизненного цикла печёночного сосальщика.



Установите последовательность стадий развития печёночного сосальщика, начиная с оплодотворённого яйца.

При выполнении задания переместите стадии развития печёночного сосальщика в нужном порядке с помощью мыши

или

запишите в поле ответа соответствующую последовательность цифр, не разделяя их запятыми или пробелами.

3) выход личинки из яйца в воде

1) проникновение личинки в тело малого прудовика

2) размножение личинки

5) прикрепление хвостатой личинки к водным растениям

4) образование цисты

Ответ: 31254

2

Ответ совпадает с эталоном.

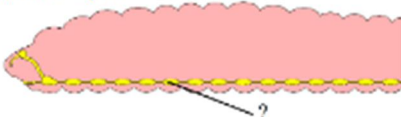
2










Допущены две ошибки.



1










Другие варианты.

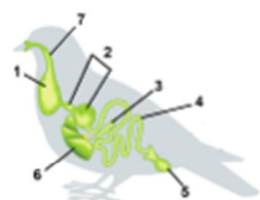
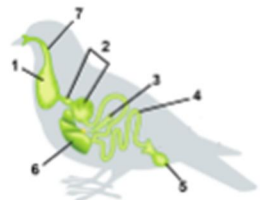
0

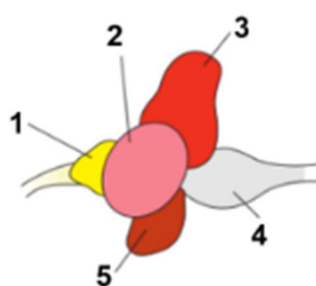
10	<div>Какое заболевание человека вызывает свиной цепень?</div> <div><div><input type="radio"/> эхинококкоз</div><div><input type="radio"/> лейшманиоз</div><div><input checked="" type="radio"/> тениоз</div><div><input type="radio"/> бруцеллёз</div></div>	1	<div>Ответ совпадает с эталоном.</div> <div>Другие варианты.</div>	<div>1</div> <div>0</div>												
11	<div>Рассмотрите схему строения дождевого червя.</div> <div></div> <div>Укажите, к какому типу относится червь, название системы органов, обозначенных на рисунке знаком вопроса, и функцию, которую она выполняет. Заполните таблицу, используя выпадающие списки.</div> <table><tr><th>ТИП</th><th>СИСТЕМА ОРГАНОВ</th><th>ФУНКЦИЯ СИСТЕМЫ</th></tr><tr><td>Кольчатые черви</td><td>нервная</td><td>регуляция работы органов и систем органов</td></tr></table>	ТИП	СИСТЕМА ОРГАНОВ	ФУНКЦИЯ СИСТЕМЫ	Кольчатые черви	нервная	регуляция работы органов и систем органов	2	<div>Ответ совпадает с эталоном.</div> <div>Допущена одна ошибка.</div> <div>Другие варианты.</div>	<div>2</div> <div>1</div> <div>0</div>						
ТИП	СИСТЕМА ОРГАНОВ	ФУНКЦИЯ СИСТЕМЫ														
Кольчатые черви	нервная	регуляция работы органов и систем органов														
12	<div>Установите соответствие между признаками и типами червей, для которых они характерны: к каждой позиции, данной в первом столбце, подберите соответствующую позицию из выпадающего списка.</div> <table><tr><th>ПРИЗНАКИ</th><th>ТИПЫ ЧЕРВЕЙ</th></tr><tr><td>имеют слепо замкнутую пищеварительную систему</td><td>Плоские</td></tr><tr><td>наличие только продольных мышц</td><td>Круглые</td></tr><tr><td>полость тела отсутствует</td><td>Плоские</td></tr><tr><td>паразиты растений</td><td>Круглые</td></tr><tr><td>гермафродиты</td><td>Плоские</td></tr></table>	ПРИЗНАКИ	ТИПЫ ЧЕРВЕЙ	имеют слепо замкнутую пищеварительную систему	Плоские	наличие только продольных мышц	Круглые	полость тела отсутствует	Плоские	паразиты растений	Круглые	гермафродиты	Плоские	2	<div>Ответ совпадает с эталоном.</div> <div>Допущена одна ошибка.</div> <div>Другие варианты.</div>	<div>2</div> <div>1</div> <div>0</div>
ПРИЗНАКИ	ТИПЫ ЧЕРВЕЙ															
имеют слепо замкнутую пищеварительную систему	Плоские															
наличие только продольных мышц	Круглые															
полость тела отсутствует	Плоские															
паразиты растений	Круглые															
гермафродиты	Плоские															










13	<div>Какой из перечисленных признаков является общим для представителей типа Моллюски?</div> <div><div><input type="radio"/> голова отсутствует</div><div><input type="radio"/> нога превратилась в щупальца</div><div><input type="radio"/> гермафродит</div><div><input checked="" type="radio"/> наличие мантии</div></div>	1	Ответ совпадает с эталоном.	1												
			Другие варианты.	0												
14	<div>Рассмотрите изображения организмов, относящихся к разным типам животных. По рисункам определите, к какому типу принадлежит каждый из изображённых организмов, и характерный признак для данного типа животных. Название типа и его характеристику выберите из выпадающих списков.</div> <table><tr><th>ПРЕДСТАВИТЕЛЬ</th><th>ТИП ЖИВОТНОГО</th><th>ХАРАКТЕРИСТИКА ТИПА ЖИВОТНОГО</th></tr><tr><td></td><td><div>Плоские черви</div></td><td><div>кожно-мускульный мешок</div></td></tr><tr><td></td><td><div>Кишечнополостные</div></td><td><div>двухслойная стенка</div></td></tr><tr><td></td><td><div>Членистоногие</div></td><td><div>покровы тела из хитина</div></td></tr></table>	ПРЕДСТАВИТЕЛЬ	ТИП ЖИВОТНОГО	ХАРАКТЕРИСТИКА ТИПА ЖИВОТНОГО		<div>Плоские черви</div>	<div>кожно-мускульный мешок</div>		<div>Кишечнополостные</div>	<div>двухслойная стенка</div>		<div>Членистоногие</div>	<div>покровы тела из хитина</div>	2	Ответ совпадает с эталоном.	2
ПРЕДСТАВИТЕЛЬ	ТИП ЖИВОТНОГО	ХАРАКТЕРИСТИКА ТИПА ЖИВОТНОГО														
	<div>Плоские черви</div>	<div>кожно-мускульный мешок</div>														
	<div>Кишечнополостные</div>	<div>двухслойная стенка</div>														
	<div>Членистоногие</div>	<div>покровы тела из хитина</div>														
			Допущена ошибка в определении типа и/или характеристики типа одного животного.	1												
			Другие варианты.	0												

15	<div>Рассмотрите изображения организмов, относящихся к разным классам членистоногих животных.</div> <div><div><div></div><div><div>Класс Насекомые ▾</div><div>одна пара усиков</div><div>тело состоит из головы, груди и брюшка</div><div>сложные фасеточные глаза</div></div></div><div><div></div><div><div>Класс Паукообраз ▾</div><div>тело слитное</div><div>внекишечное пищеварение</div><div>нет усиков</div></div></div><div>Выберите из выпадающих списков классы представленных животных и перетащите перечисленные ниже признаки организмов к их изображениям. Среди признаков есть лишние.</div><div><div>тело состоит из головогруди и брюшка</div><div>две пары усиков</div></div></div>	1	Классы животных															
			Ответ совпадает с эталоном.	1														
			Другие варианты.	0														
16	<div>Установите соответствие между названиями насекомых и их типом развития: к каждому элементу из первого столбца подберите соответствующий элемент из выпадающего списка.</div> <table><thead><tr><th>НАЗВАНИЯ НАСЕКОМЫХ</th><th>ТИП РАЗВИТИЯ</th></tr></thead><tbody><tr><td>Клоп вредная черепашка</td><td>с неполным превращением ▾</td></tr><tr><td>Муха комнатная</td><td>с полным превращением ▾</td></tr><tr><td>Пчела медоносная</td><td>с полным превращением ▾</td></tr><tr><td>Жук майский</td><td>с полным превращением ▾</td></tr><tr><td>Тля листовая галловая</td><td>с неполным превращением ▾</td></tr><tr><td>Кузнечик серый</td><td>с неполным превращением ▾</td></tr></tbody></table>	НАЗВАНИЯ НАСЕКОМЫХ	ТИП РАЗВИТИЯ	Клоп вредная черепашка	с неполным превращением ▾	Муха комнатная	с полным превращением ▾	Пчела медоносная	с полным превращением ▾	Жук майский	с полным превращением ▾	Тля листовая галловая	с неполным превращением ▾	Кузнечик серый	с неполным превращением ▾	2	Ответ совпадает с эталоном.	2
		НАЗВАНИЯ НАСЕКОМЫХ	ТИП РАЗВИТИЯ															
		Клоп вредная черепашка	с неполным превращением ▾															
Муха комнатная	с полным превращением ▾																	
Пчела медоносная	с полным превращением ▾																	
Жук майский	с полным превращением ▾																	
Тля листовая галловая	с неполным превращением ▾																	
Кузнечик серый	с неполным превращением ▾																	
	Допущена одна ошибка.	1																
	Другие варианты.	0																

17	<div>Какой общий признак характерен для организмов под цифрами 1 и 2?</div> <div><div><div>1</div></div><div><div>2</div></div></div> <div><div><input type="radio"/> жаберное дыхание</div><div><input checked="" type="radio"/> наличие сердца на брюшной стороне тела</div><div><input type="radio"/> теплокровность</div><div><input type="radio"/> плакоидная чешуя</div></div>	1	<div>Ответ совпадает с эталоном.</div> <div>Другие варианты.</div>	<div>1</div> <div>0</div>									
18	<div>Рассмотрите изображения организмов, относящихся к разным классам позвоночных животных.</div> <div></div> <div>Перетащите изображения животных к их характеристикам и выберите из выпадающего списка класс данного животного. Среди представленных изображений есть лишние.</div> <table><thead><tr><th>ХАРАКТЕРИСТИКИ</th><th>ИЗОБРАЖЕНИЯ ЖИВОТНЫХ</th><th>КЛАСС</th></tr></thead><tbody><tr><td><div><div>• голова сочленена с позвоночником подвижно</div><div>• характерно лёгочное дыхание</div><div>• освоили две среды обитания</div></div></td><td></td><td><div>Земноводные</div></td></tr><tr><td><div><div>• тело покрыто костной чешуёй</div><div>• передвигается с помощью плавников</div><div>• имеется боковая линия</div></div></td><td></td><td><div>Костные рыбы</div></td></tr></tbody></table>	ХАРАКТЕРИСТИКИ	ИЗОБРАЖЕНИЯ ЖИВОТНЫХ	КЛАСС	<div><div>• голова сочленена с позвоночником подвижно</div><div>• характерно лёгочное дыхание</div><div>• освоили две среды обитания</div></div>		<div>Земноводные</div>	<div><div>• тело покрыто костной чешуёй</div><div>• передвигается с помощью плавников</div><div>• имеется боковая линия</div></div>		<div>Костные рыбы</div>	2	<div>Ответ совпадает с эталоном.</div> <div>Допущена одна ошибка в подборе животного и/или указании его класса.</div> <div>Другие варианты.</div>	<div>2</div> <div>1</div> <div>0</div>
ХАРАКТЕРИСТИКИ	ИЗОБРАЖЕНИЯ ЖИВОТНЫХ	КЛАСС											
<div><div>• голова сочленена с позвоночником подвижно</div><div>• характерно лёгочное дыхание</div><div>• освоили две среды обитания</div></div>		<div>Земноводные</div>											
<div><div>• тело покрыто костной чешуёй</div><div>• передвигается с помощью плавников</div><div>• имеется боковая линия</div></div>		<div>Костные рыбы</div>											

19	<div>Рассмотрите рисунок и выполните задания 19 и 20.</div> <div></div> <div>Какой цифрой на рисунке обозначена печень?</div> <div>Ответ: 6.</div>	1	Ответ совпадает с эталоном.	1												
			Другие варианты.	0												
20	<div></div> <div>Установите соответствие между характеристиками органов птицы и их изображением, обозначенным на рисунке цифрой 1 или 2: для каждой позиции из первого столбца подберите соответствующую позицию из выпадающего списка.</div> <table><thead><tr><th>ХАРАКТЕРИСТИКА ОРГАНОВ</th><th>ИЗОБРАЖЕНИЕ ОРГАНОВ</th></tr></thead><tbody><tr><td>состоит из двух отделов: железистого и мускульного</td><td>2</td></tr><tr><td>временное накопление пищи</td><td>1</td></tr><tr><td>является расширением пищевода</td><td>1</td></tr><tr><td>соединяется с тонким кишечником</td><td>2</td></tr><tr><td>содержит пищеварительные соки</td><td>2</td></tr></tbody></table> <td>2</td> <td>Ответ совпадает с эталоном.</td> <td>2</td>	ХАРАКТЕРИСТИКА ОРГАНОВ	ИЗОБРАЖЕНИЕ ОРГАНОВ	состоит из двух отделов: железистого и мускульного	2	временное накопление пищи	1	является расширением пищевода	1	соединяется с тонким кишечником	2	содержит пищеварительные соки	2	2	Ответ совпадает с эталоном.	2
ХАРАКТЕРИСТИКА ОРГАНОВ	ИЗОБРАЖЕНИЕ ОРГАНОВ															
состоит из двух отделов: железистого и мускульного	2															
временное накопление пищи	1															
является расширением пищевода	1															
соединяется с тонким кишечником	2															
содержит пищеварительные соки	2															
			Допущена одна ошибка.	1												
			Другие варианты.	0												

21	<p>Выберите три правильных ответа. Какие особенности характерны для представителей класса Млекопитающие?</p> <div> <input type="checkbox"/> перьевой покров </div> <div> <input type="checkbox"/> наличие копчиковой железы </div> <div> <input type="checkbox"/> «двойное дыхание» </div> <div> <input checked="" type="checkbox"/> семь шейных позвонков </div> <div> <input checked="" type="checkbox"/> наличие потовых и сальных желёз </div> <div> <input checked="" type="checkbox"/> живорождение </div>	2	Ответ совпадает с эталоном.	2
			Допущена одна ошибка.	1
			Другие варианты.	0
22	<p>Какой цифрой на рисунке «Строение головного мозга рыбы» обозначен мозжечок?</p>  <div> Ответ: <input type="text" value="3"/> </div>	1	Ответ совпадает с эталоном.	1
			Другие варианты.	0

23	<p>Рассмотрите изображения организмов, относящихся к различным отрядам класса Млекопитающие.</p> <table><tr><td></td><td></td><td></td></tr><tr><td>Грызуны ▼</td><td>Рукокрылые ▼</td><td>Ластоногие ▼</td></tr><tr><td>зубы приспособлены к разжёвыванию твёрдой пищи</td><td>тонкие и лёгкие кости</td><td>веретеновидное тело</td></tr><tr><td>зубы стачиваются и постоянно растут</td><td>на груди́не имеется киль</td><td>конечности преобразованы в лапы</td></tr></table> <p>Выберите из выпадающих списков отряды животных и перетащите перечисленные ниже характеристики организмов к их изображениям.</p>				Грызуны ▼	Рукокрылые ▼	Ластоногие ▼	зубы приспособлены к разжёвыванию твёрдой пищи	тонкие и лёгкие кости	веретеновидное тело	зубы стачиваются и постоянно растут	на груди́не имеется киль	конечности преобразованы в лапы	2	<p>Ответ совпадает с эталоном.</p>	2
																
Грызуны ▼	Рукокрылые ▼	Ластоногие ▼														
зубы приспособлены к разжёвыванию твёрдой пищи	тонкие и лёгкие кости	веретеновидное тело														
зубы стачиваются и постоянно растут	на груди́не имеется киль	конечности преобразованы в лапы														
			<p>Допущена одна ошибка в указании отрядов и/или распределении признаков.</p>	1												
			<p>Другие варианты.</p>	0												
24	<p>Известно, что медведь белый — это хищное млекопитающее животное, занесённое в Красную книгу РФ.</p> <p>Используя эти сведения, выберите из приведённого ниже списка три утверждения, относящихся к описанию данных признаков этого животного.</p> <table><tr><td><input type="checkbox"/> Животное ведёт одиночный образ жизни.</td></tr><tr><td><input checked="" type="checkbox"/> Медведь ловит тюленей, нерпу и моржей, подкрадываясь из укрытий, или возле лунок: ударом лапы оглушает добычу и вытаскивает её на лёд.</td></tr><tr><td><input checked="" type="checkbox"/> В России охота на медведя полностью запрещена с 1956 года.</td></tr><tr><td><input type="checkbox"/> Белые медведи — отличные пловцы.</td></tr><tr><td><input checked="" type="checkbox"/> В полых шерстинках белого медведя иногда заводятся водоросли, придавая шерсти зеленоватый оттенок.</td></tr><tr><td><input type="checkbox"/> Медведи совершают сезонные кочёвки: летом отступают вместе со льдами к Северному полюсу, зимой перемещаются на материк.</td></tr></table>	<input type="checkbox"/> Животное ведёт одиночный образ жизни.	<input checked="" type="checkbox"/> Медведь ловит тюленей, нерпу и моржей, подкрадываясь из укрытий, или возле лунок: ударом лапы оглушает добычу и вытаскивает её на лёд.	<input checked="" type="checkbox"/> В России охота на медведя полностью запрещена с 1956 года.	<input type="checkbox"/> Белые медведи — отличные пловцы.	<input checked="" type="checkbox"/> В полых шерстинках белого медведя иногда заводятся водоросли, придавая шерсти зеленоватый оттенок.	<input type="checkbox"/> Медведи совершают сезонные кочёвки: летом отступают вместе со льдами к Северному полюсу, зимой перемещаются на материк.	2	<p>Ответ совпадает с эталоном.</p>	2						
<input type="checkbox"/> Животное ведёт одиночный образ жизни.																
<input checked="" type="checkbox"/> Медведь ловит тюленей, нерпу и моржей, подкрадываясь из укрытий, или возле лунок: ударом лапы оглушает добычу и вытаскивает её на лёд.																
<input checked="" type="checkbox"/> В России охота на медведя полностью запрещена с 1956 года.																
<input type="checkbox"/> Белые медведи — отличные пловцы.																
<input checked="" type="checkbox"/> В полых шерстинках белого медведя иногда заводятся водоросли, придавая шерсти зеленоватый оттенок.																
<input type="checkbox"/> Медведи совершают сезонные кочёвки: летом отступают вместе со льдами к Северному полюсу, зимой перемещаются на материк.																
			<p>Допущена одна ошибка.</p>	1												
			<p>Другие варианты.</p>	0												

25	Проанализируйте данные наблюдения учёных, представленные в таблице «Размножение рыб».					2	Ответ совпадает с эталоном.	2																													
							Допущена одна ошибка.	1																													
							Другие варианты.	0																													
	<table><thead><tr><th>Виды рыб</th><th>Количество икринок</th><th>Средний диаметр икринок</th><th>Средний возраст наступления половозрелости</th><th>Средний возраст рыб, выловленных в разных водоёмах</th></tr></thead><tbody><tr><td>Щука обыкновенная</td><td>30 тыс.</td><td>2,5–3 мм</td><td>3–4 года</td><td>5 лет</td></tr><tr><td>Норвежская сельдь</td><td>200 тыс.</td><td>1,3 мм</td><td>2–7 лет</td><td>8 лет</td></tr><tr><td>Треска балтийская</td><td>10 млн</td><td>1 мм</td><td>5–9 лет</td><td>3 года</td></tr><tr><td>Сазан</td><td>1,5 млн</td><td>1 мм</td><td>5–6 лет</td><td>8 лет</td></tr><tr><td>Колюшка трёхиглая</td><td>100–1000</td><td>1,8 мм</td><td>1 год</td><td>2 года</td></tr></tbody></table>					Виды рыб	Количество икринок	Средний диаметр икринок	Средний возраст наступления половозрелости	Средний возраст рыб, выловленных в разных водоёмах	Щука обыкновенная	30 тыс.	2,5–3 мм	3–4 года	5 лет	Норвежская сельдь	200 тыс.	1,3 мм	2–7 лет	8 лет	Треска балтийская	10 млн	1 мм	5–9 лет	3 года	Сазан	1,5 млн	1 мм	5–6 лет	8 лет	Колюшка трёхиглая	100–1000	1,8 мм	1 год	2 года		
Виды рыб	Количество икринок	Средний диаметр икринок	Средний возраст наступления половозрелости	Средний возраст рыб, выловленных в разных водоёмах																																	
Щука обыкновенная	30 тыс.	2,5–3 мм	3–4 года	5 лет																																	
Норвежская сельдь	200 тыс.	1,3 мм	2–7 лет	8 лет																																	
Треска балтийская	10 млн	1 мм	5–9 лет	3 года																																	
Сазан	1,5 млн	1 мм	5–6 лет	8 лет																																	
Колюшка трёхиглая	100–1000	1,8 мм	1 год	2 года																																	
	Выберите два утверждения, наиболее точно отражающие содержащуюся в таблице информацию.																																				
	<input checked="" type="checkbox"/> Колюшка трёхиглая достигает половозрелости к концу первого года жизни.																																				
	<input type="checkbox"/> Вылов трески балтийской и сазана осуществляется только в половозрелом возрасте.																																				
	<input checked="" type="checkbox"/> Диапазон средних размеров икринок представленных в таблице рыб составляет 1 мм – 3 мм.																																				
	<input type="checkbox"/> Наибольший диаметр икринок у трески балтийской и сазана.																																				
	<input type="checkbox"/> Щука обыкновенная, выловленная в разных водоёмах, весит 2–3 кг в возрасте 5 лет.																																				